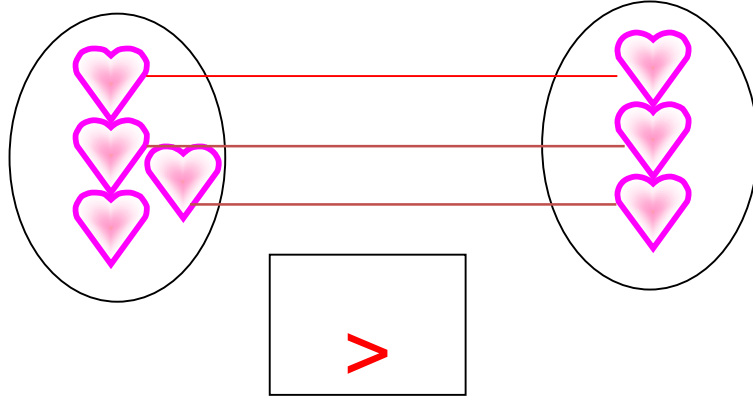


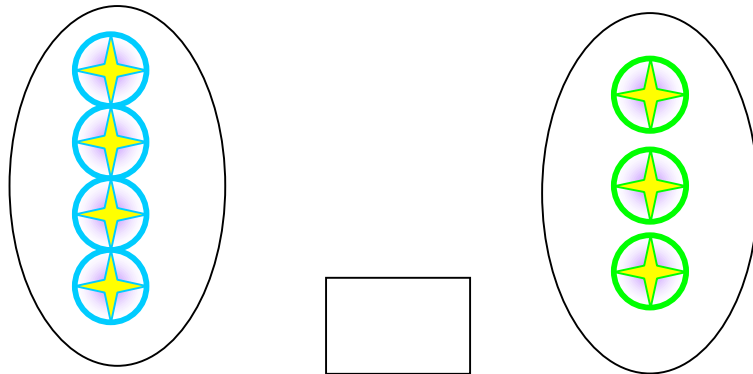


ชื่อ..... ชั้น..... เลขที่.....

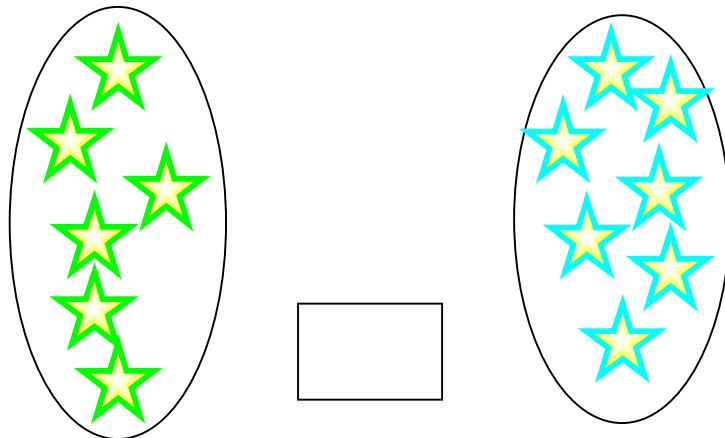
คำชี้แจง ให้จับคู่หนึ่งต่อหนึ่ง แล้วเติมเครื่องหมาย $>$, $<$ ให้ถูกต้อง
ตัวอย่าง



1.



2.





ชื่อ..... ชั้น..... เลขที่.....

คำชี้แจง ให้เติมเครื่องหมาย = , \neq ลงใน ให้ถูกต้อง

ตัวอย่าง

8 = 8

1. 9 7

2. 6 6

3. 7 9

4. 6 8

5. 7 7

